

**ВСЕРОССИЙСКАЯ ОЛИМПИАДА ШКОЛЬНИКОВ ПО ИСТОРИИ. 2020–2021 уч.г.
МУНИЦИПАЛЬНЫЙ ЭТАП. 8 КЛАСС**

1	2	3	4	5	6	7	8	9	10	11	12	13	итого
1	1	1	1	1	6	6	9	10	10	20	14	20	100
1	0	0	1	1	5	6	8	10	10	20	12	8	82

В заданиях 1–5 дайте один верный ответ.
Ответы внесите в таблицу в бланке работы.

1. По сообщению летописного источника - «из-за моря вимали дань с чудн, и со словен, и с мерн, и с кривичей»:

1. хазары
2. половцы
3. варяги
4. болгары

2. О событиях какого года сказано: «Так было в прошлые войны, и в предыдущие сражения, но такой войны не бывало! С утра до вечера, с вечера и до рассвета летят стрелы каменные, звенят сабли о щлемы, трещат копыта булатные в поле неизвестном среди земли Половецкой»

1. 1111
2. 1185
3. 1223
4. 1237

3. В XVII веке налог на выкуп пленных носил название:

1. Положняничные деньги
2. Вено
3. Стрелецкий хлеб
4. Запросные деньги

4. Кто был современником царя Михаила Фёдоровича Романова?

1. Кардинал Ришелье
2. Эразм Роттердамский
3. Леонардо да Винчи
4. Фернандо Кортес

5. Какое суждение об истории Симбирско-Ульяновского края не верно?

1. Первобытные люди появились на территории современного Ульяновска 80–100 тысяч лет назад.
2. До 1944 года на территории современной улицы Автозаводской располагался колхоз «Родина Ильича».
3. 1 октября 1670 года на левом берегу Свияги (в районе современного УАЗа) состоялась битва правительственных войск Ю.Н. Борятинского с войсками Степана Разина, где он был тяжело ранен в голову и левую ногу.

**ВСЕРОССИЙСКАЯ ОЛИМПИАДА ШКОЛЬНИКОВ ПО ИСТОРИИ. 2020–2021 уч.г.
МУНИЦИПАЛЬНЫЙ ЭТАП. 8 КЛАСС**

1	2	3	4	5	6	7	8	9	10	11	12	13	итого
1	1	1	1	1	6	6	9	10	10	20	14	20	100
1	0	0	1	1	5	6	8	10	10	20	12	8	82

В заданиях 1–5 дайте один верный ответ.
Ответы внесите в таблицу в бланке работы.

1. По сообщению летописного историка - «из-за моря вимали дань с чудн, и со словен, и с меря, и с кривичей»:

1. хазары
2. половцы
3. варяги
4. болгары

2. О событиях какого года сказано: «Так было в прошлые войны, и в предыдущие сражения, но такой войны не бывало! С утра до вечера, с вечера и до рассвета летят стрелы каменные, звенят сабли о щлемы, трещат копыта булатные в поле неизвестном среди земли Половецкой»

1. 1111
2. 1185
3. 1223
4. 1237

3. В XVII веке налог на выкуп пленных носил название:

1. Половничьи деньги
2. Вено
3. Стрелецкий хлеб
4. Запростные деньги

4. Кто был современником царя Михаила Фёдоровича Романова?

1. Кардинал Ришелье
2. Эразм Роттердамский
3. Леонардо да Винчи
4. Фернандо Кортес

5. Какое суждение об истории Симбирско-Ульяновского края не верно?

1. Первообытные люди появились на территории современного Ульяновска 80 – 100 тысяч лет назад.
2. До 1944 года на территории современной улицы Автозаводской располагался колхоз «Родина Ильича».
3. 1 октября 1670 года на левом берегу Свияги (в районе современного УАЗа) состоялась битва правительственных войск Ю.Н. Борятинского с войсками Степана Разина, где он был тяжело ранен в голову и левую ногу.

4. Самое старое здание в городе – здание «Дом Гончарова»

1	2	3	4	5
3	4	4 3	1	4
+	-	-	+	+

Максимум за задания 1–5 – 5 баллов.

В задании 6 выберите несколько верных ответов из предложенных.
Ответы внесите в таблицу в бланке работы.

6.1. Какие из перечисленных городов входили в состав Московского княжества при Данииле Александровиче?

- | | |
|--------------------------|-------------|
| 1) Переяславль-Залесский | 4) Кострома |
| 2) Коломна | 5) Можайск |
| 3) Торжок | 6) Козельск |

6.2. Из перечисленных лиц Москву осаждали

- 1) Ольгерд
- 2) Мамай
- 3) Стефан Баторий
- 4) Тохтамыш
- 5) Олег Рязанский
- 6) Владислав Ваза

6.3. Какие события и явления относятся ко времени правления Михаила Федоровича:

- 1) взятие крепости Азов донскими казаками
- 2) строительство Теремного дворца в Кремле
- 3) патриаршество Иосафа II
- 4) создание «Сказания об осаде Троице-Сергиева монастыря»
- 5) принятие Соборного Уложения

6.1	6.2	6.3
1, 2, 5 +	6, 1, 5, 4 +	1, 2, 3 ±

50

Максимум за задание 6 – 6 баллов.

7. По какому принципу образованы ряды? Дайте максимально точный ответ.

(по 2 балла, всего-6 баллов)

7.1. Андрей Курбский. Сильвестр, митрополит Макарий. Алексей Адашев.

применение к Ивану IV в изобретении ряда + 20

7.2. 1147, 1221, 1703 гг

основание главных городов России +25

7.3. титулярный советник, надворный советник, коллежский асессор, фендрик

звания в чине императора Павел с рангом +25

*р/с
25*

8. Задания на соотнесение рядов данных. Запишите выбранные цифры под соответствующими буквами в таблицу в бланке работы.

8.1. Соотнесите знаменитое событие и место, где оно произошло:

а. Исцеление Владимира от слепоты	<input checked="" type="checkbox"/> 1. Боголюбово
б. Встреча Юрия с родственниками	2. Москва
в. Рождение Ольги	3. Новгород
г. Убийство Андрея	<input checked="" type="checkbox"/> 4. Псков
	5. Херсонес

8.2. Установите соответствие

1) открытие памятника Н.М. Карамзину	<input checked="" type="checkbox"/> а) 1774 г
2) основание г. Симбирска	<input checked="" type="checkbox"/> б) 1845 г
3) войска Разина осаждают Симбирск	<input checked="" type="checkbox"/> в) 1647 г
4) войска Пугачёва у Симбирска	<input checked="" type="checkbox"/> г) 1648 г
5) большой Симбирский пожар	д) 1864 г
6) основание Карсун	<input checked="" type="checkbox"/> е) 1670 г

8.3. Установите соответствие между событиями отечественной истории и событиями зарубежной истории, произошедшими в том же веке.

СОБЫТИЯ ОТЕЧЕСТВЕННОЙ ИСТОРИИ

СОБЫТИЯ ЗАРУБЕЖНОЙ ИСТОРИИ

- | | |
|--|--|
| А) открытие Славяно-греко-латинской академии | <input checked="" type="checkbox"/> 1) «Авиньонское пленение пап» |
| <input checked="" type="checkbox"/> Б) основание Сергием Радонежским Троицкого монастыря | <input checked="" type="checkbox"/> 2) Варфоломеевская ночь во Франции |
| <input checked="" type="checkbox"/> В) строительство Китай-городской стены в Москве | <input checked="" type="checkbox"/> 3) окончание Реконквисты в Испании |
| <input checked="" type="checkbox"/> Г) смерть Дмитрия Шемяки в Новгороде | 4) IV Крестовый поход |
| | 5) «Славная революция» в Англии |

8.1	8.2	8.3
$a-3$ $b-4$ ± 25 $\delta-2$ $z-1$	$1-6$ $2-2$ $3-e$ $+35$ $4-a$ $5-9$ $6-1$	$1-8$ $5-A$ $8-1$ $2-3$ $+35$

Максимум за задание – 9 баллов.

9. Перед Вами – отрывки из указов Петра Великого. Внимательно ознакомьтесь с ними и расположите в хронологической последовательности, а также укажите год появления каждого указа. Ответ внесите в таблицу. (10 баллов)

- А) «Указ объявить последующей: определили быть для отлучек наших Правительствующий Сенат для управления»
- Б) «Того ради позволяется сим нашим указом, для размножения таких заводов, как шляхетству, так и купецким людям, к тем заводам деревни покупать невозбранно... дабы те деревни всегда были уже при тех заводах неотлучно»
- В) «Кто имеет сыновей и ему же, аще хошет, единому из оных дать недвижимое, чрез духовную, тому в наследие и будет. Другие же дети обоего полу да награждены будут движимыми имении»
- Г) «Заблага разсудили мы сей устав учинить, дабы сие было всегда в воле правительствующего государя, кому оной хошет, тому и определит наследство, и определенному, видя какое непотребство, паки отменит»
- Д) «Великий государь указал, по именному своему великого государя указу, в своем великого государя великом Росейском государстве для всенародной пользы учинить восемь губерний и к ним росписать города»

буква	год	
Д	1708	+
А	1711	+
В	1714	+
Б	1721	+
Г	1722	+

105

10. Определите пропущенные в тексте названия, слова, имена, даты, обозначенные порядковыми номерами. При необходимости при порядковых номерах даются пояснения о характере требуемой вставки. Необходимые вставки впишите под соответствующими номерами в помещённую в бланке ответа таблицу.



Одним из самых трагических и самых известных эпизодов религиозных войн была случившаяся в правление короля (1 – имя) так называемая «(2) ночь» – массовая резня гугенотов в (3 – город) и других городах 24 августа (4) года. Инициаторами убийств французских протестантов, приехавших в столицу по случаю свадьбы их главы Генриха Наваррского с (5 – имя), были королева мать (6 – её имя) и герцог Генрих де Гиз. Только за одну ночь были убиты более 2 тысячи человек. Этот акт насилия вызвал негодование в европейских государствах. Даже русский царь (7 – имя) эмоционально выразил свое возмущение произошедшим. Генрих Наваррский спасся, приняв католичество. После этого он бежал на Юг, перешёл к гугенотам и возглавил их борьбу против католиков. Лидер католической партии герцог де Гиз был убит по приказу короля (8 – имя). Армия Генриха Наваррского одержала несколько побед, но Париж, где укрепились католики, оставался неприступным. Тогда будущий король ещё раз сменил веру, произнеся знаменитую фразу «Париж стоит (9)», и был принят парижанами в качестве главы государства. Он стал основателем династии (10).

1.	Король IX	+	6.	Екатерина	+
2.	королева-мать Изабелла	+	7.	Гиза IV	+
3.	Париже	+	8.	Генрих III	+
4.	1572	+	9.	Месса	+
5.	Маргаритой	+	10.	Гурбоков	+

100

Максимум за задание – 10 баллов.

11. Внимательно рассмотрите изображения памятников архитектуры и гербов городов, прочитайте цитаты о важных исторических событиях, связанных с этими городами. Соотнесите герб города с фотографией архитектурного сооружения и цитатой из источника. Ответы внесите в таблицу в бланке работы

1.		а		А	«Добрыня же, собрав вой, запрети грабление и абие идолы сокруши, деревянные сожгоша, а каменные, излюмав, в реку вергоша; и бысть нечестивым печаль велика»
----	---	---	---	---	---

2.



б




Б «Подступивши ко граду со всей стороны и начавша бить пороки по граду и внутри града, и сыпавшаяся камень великие издалече... и выбивша стену у Златых врат, также и от Лыбеди у Ориинных врат и у Медяных, также от Клязмы, у Воложьских врат, и прочее весь град разбивша, и внутрь камением насыпавша»

3.



в




В «Узнав о бегстве атамана, Борятинский вышел с конницей в поле, и стал около города, а пехоту пустил на обоз и острог. Милославский с другой стороны входил в острог, который запылал в разных местах. Поражаемые с двух сторон и теснимые огнем мятежники бросились к судам, но мало кому из них удалось спастись, большинство было перебито и перетоплено».



4.



г



Г «Между тем временем господин капитан бомбардирской изволил осматривать близ к морю удобного места для здания новой фортеции и потом в скором времени изволил обыскать единой остров, zelo удобной положением место, на котором в скором времени, а именно мая в 16 день, в неделю Пятидесятницы, фортецию

5.		1		Д	«... по благословению Макария митрополита всея Руси совершена бысть святая сия церковь Покров Пресвятыя Богородицы в лета 7069 месяца июня 29 на память святых и всехвальных верховных апостолов Петра и Павла в честь славу Святыя Троицы...»
----	---	---	---	---	--

100
200

название города	Герб (указать цифру)	архитектурный памятник (указать ПРОИСХОДЯЩУЮ букву)	историческое событие (указать ЗАГЛАВНУЮ букву)	
Владимир	3	Б	Б	+
Ульяновск	2	А	В	+
Москва	4	2	Д	+
Санкт-Петербург	5	В	Г	+
Великий Новгород	1	Г	А	+

4 балла за каждую верную строку, по 3 балла за строку с 1 ошибкой, всего 20 баллов

205

12. Внимательно изучите карту и выполните задания

12.1 Назовите государство, чья граница к 1481 году обозначена в легенде карты.

Ответ: Османская империя + 25

12.2. Назовите правителя этого государства, при котором был захвачен город, обозначенный на схеме цифрой «4».

Ответ: Мехмед II + 25

12.3 Как стал называться город, обозначенный на схеме цифрой «4» после того, как был захвачен войсками государства, представленного на схеме?

Ответ: Констан丁堡 + 25

12.4. Кто правит в русском государстве к моменту захвата города, обозначенного на схеме цифрой «4»?

Ответ: Иван III —

12.5. Напишите название моря, обозначенного на схеме цифрой «1».

Ответ: Черное море + 25

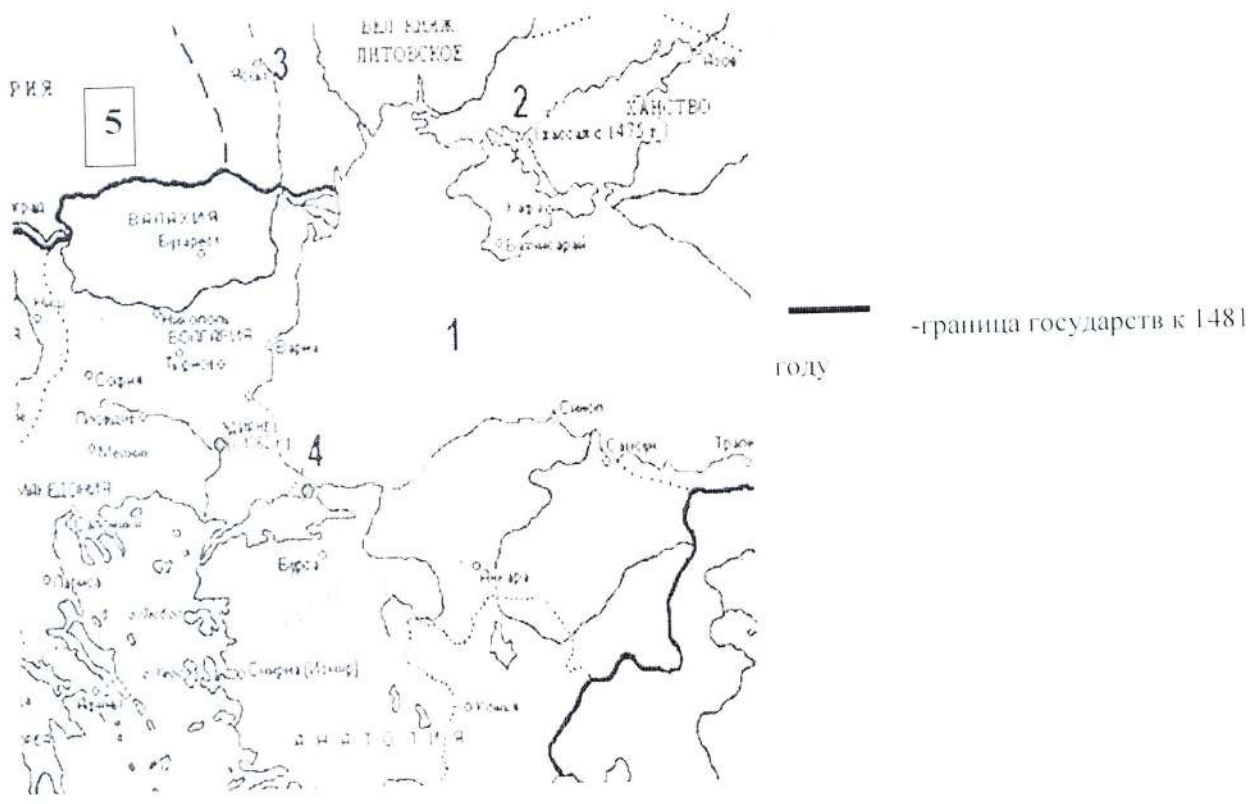
12.6. Напишите название ханства, обозначенного на схеме цифрой «2».

Ответ: Крымское ханство + 25

12.7. Напишите название государства, обозначенного на схеме цифрой «5».

Ответ: Венгрия + 25

По 2 балла за каждый правильный ответ. Всего 146 баллов.



13.2. Этот брат Ярошова Ярошавовича
Александр Невский +25 —

13.3. Вларьса это предвещания иже в вассини Александра
для, который
правил Новгородом

13.4 —

13.5 —

13.6. Это иже был эриши и эишы лужиши
за всю историю новгородо. Александр Невский смог
обезопасить северо-западные границы от нападения
немецких и шведских интервентов. Противостоял
Папе Римскому и сохранил православие на Руси
Получил право на сбор дани для Руси. Этот
момент в порабощенных княжествах был
ослаблен и народ был избавлен от набегов
басмачей ±45.